

NASTAVA NA DALJINU

SRIJEDA 15.4.2020. GODINE

HRVATSKI JEZIK- Imenice- ponavljanje

Promotri sljedeće riječi:

mama lopta cvijet ljubičica

Ivan dječak Ana torba

Kako jednim imenom zovemo ove riječi?

Što one imenuju? Zašto su neke napisane velikim početnim slovom?

Ove riječi zovemo **IMENICE**.

Imenice su riječi kojima imenujemo sve što nas okružuje, sve što vidimo, čujemo, osjećamo i zamišljamo. Ivan i Ana su vlastita imena, a već ste naučili da se imena pišu velikim početnim slovom.

U bilježnicu napiši naslov: Imenice- ponavljanje

Prepiši sljedeću pjesmu u svoju bilježnicu.

Iz ove pjesme izostavljene su neke riječi: mraku, Suncu, krtica, mama, ptica, zraku, tama, krila, krtičica, visini. To su IMENICE. Upiši ih na pravo mjesto.

Krtica

Pomislila _____ :
Da sam barem _____ ,
pa da imam _____ ,
ne bih stalno bila
u ovome _____ ,
nego u _____
u plavome _____ ,
_____ u blizini.

Veli _____ :
- Da si ptica, _____ ,
ja bih bila sama.
- Imaš pravo, mila,
milija mi _____ .

Vera Zemunić

DOMAĆA ZADAĆA:

Lijepo i izražajno nauči čitati pjesmu "Krtica".

Odigraj igru "Udari krticu" koja se nalazi na sljedećem linku:

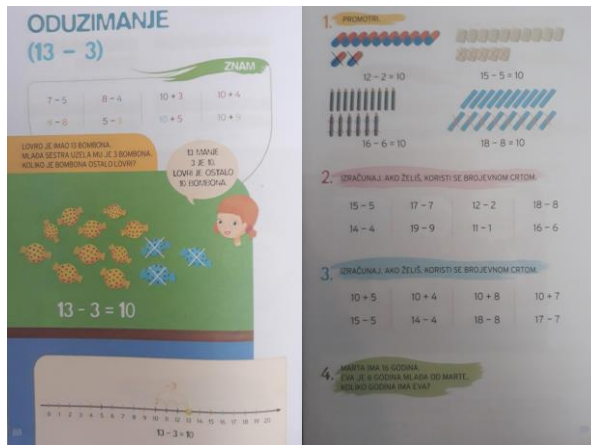
<https://wordwall.net/hr/resource/482900>

MATEMATIKA

Oduzimanje (13-3)–obrada

Otvori udžbenik **Moj sretni broj** na stranici 88.

Prepiši naslov iz udžbenika u bilježnicu.



Ponovimo: Kako se zovu brojevi u oduzimanju?

Umanjenik 7 - 5 = 2 **razlika**

umanjitelj

Usmeno uradi primjere pod naslovom "Znam".

Promotri sliku iz udžbenika i pročitaj tekst zadatka:

Lovro je imao 13 bombona.

Mlađa sestra uzela mu je 3 bombona.

Koliko je bombona ostalo Lovri?

Analizirajmo zadatak:

Poznato: Lovro je imao 13 bombona.

Mlađa sestra mu je uzela 3.

Nepoznato: Koliko je bombona ostalo Lovri?

$$13-3=?$$

Ako prebrojimo koliko je bombona ostalo, vidjet ćemo da ih je ostalo još 10.

R: $13-3=10$

O: Lovri je ostalo 10 bombona.

Prikazat ćemo zbrajanje i na brojevnoj crti.

Promotri 1. zadatak na 89. stranici. Što uočavaš?

$12-2=10$ $15-5=10$ $16-6=10$ $18-8=10$

Koliko broj 12 ima jedinica i desetica? $12=1D$ i $2J$

Uočavamo da je broj jedinica u umanjeniku jednak broju jedinica umanjitelja i da je razlika uvijek 10.


Prepiši ispod naslova plan ploče.

PLAN PLOČE

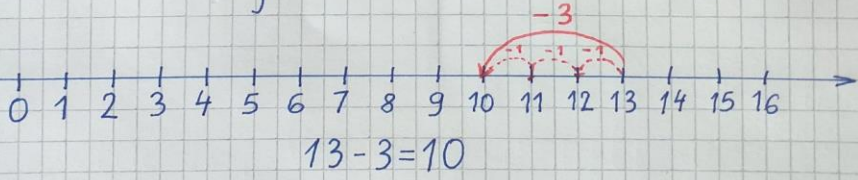
Školski uradak

Oduzimanje (13-3)

Lovro je imao 13 bombona.
Mlada sestra uzela mu je 3 bombona.
Koliko je bombona ostalo Lovri?



R: $13-3=10$
o: Lovri je ostalo 10 bombona.



0 1 2 3 4 5 6 7 8 9 10 11 12 13 14 15 16

$13-3=10$

DOMAĆA ZADAĆA: U bilježnicu uradi 2., 3. i 4. zadatak iz udžbenika sa stranice 89.