

NASTAVA NA DALJINU

ČETVRTAK 16.4.2020. GODINE

**HRVATSKI JEZIK**- Pisanje riječce li- obrada

Otvori udžbenik **Tajna slova 2** na stranici 73.

Pročitaj sljedeće rečenice:

Imaš li kišobran?      Voliš li limun?      Hoćeš li doći?

Usmeno odgovori na pitanja:

Kakve su ovo rečenice? Što se nalazi na kraju ovih rečenica?

Koja je druga riječ u rečenici?

Ovo su upitne rečenice. Upitnim rečenicama nešto pitamo.

Na kraju upitnih rečenica je upitnik (?).

-Druga riječ u ovim rečenicama je riječca li.

Danas ćemo naučiti kako se piše riječca li u upitnim rečenicama.

Pročitaj tekst "Doček" iz udžbenika.

Usmeno odgovori na pitanja:

Tko je dočekao dječaka?

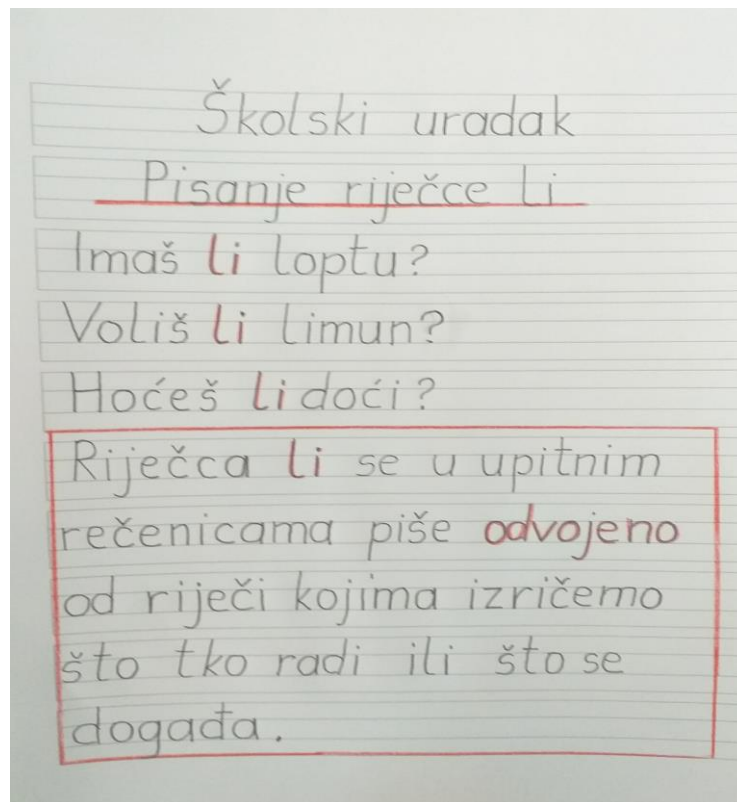
Pročitaj rečenicu koju izgovara baka.

Što je seka pitala dječaka? A mama?

Promotrite riječcu **li** u rečenicama. Kako je napisana?

Riječca **li** piše se odvojeno od drugih riječi u rečenici.

U bilježnicu uredno prepisi plan ploče.



### DOMAĆA ZADAĆA:

Prepiši sljedeće rečenice. Nakon toga ih preoblikuj u upitne. Pazi na pisanje riječce li.

Pogledaj prvi primjer i nastavi sam/sama.

1.Eugen uči.

1.Uči li Eugen?

2.Josipa nosi loptu.

3.Jakov pjeva.

4.Mama voli Luku.

Uradi kviz na sljedećem linku

<https://wordwall.net/hr/resource/1200851>

# MATEMATIKA

Oduzimanje (13-3)-vježbanje i ponavljanje

Usmeno izračunaj:

Luka je imao 15 pikula.

5 pikula je dao prijatelju Jakovu.

Koliko je pikula ostalo Luki?

I ovo usmeno odgovori:



Kako se zovu brojevi u oduzimanju?

Ako si točno odgovorio, onda znaš da se prvi broj u oduzimanju zove **umanjenik**, drugi broj **umanjitelj**, a rezultat oduzimanja **razlika**.

Danas ćemo uvježbati i ponoviti oduzimanje (13-3).  
Iz radne bilježnice na stranici 65. uradi sve zadatke.

**ODUZIMANJE (13 - 3)**

1. Riješi.

$15 - \square = \square$        $\square - \square = \square$

2. Izračunaj.

$18 - 8 = \square$      $15 - 5 = \square$      $17 - 7 = \square$      $14 - 4 = \square$   
 $19 - 9 = \square$      $16 - 6 = \square$      $12 - 2 = \square$      $13 - 3 = \square$

3. Izračunaj.

$15 - \square = 10$      $14 - \square = 10$      $18 - \square = 10$      $11 - \square = 10$   
 $12 - \square = 10$      $17 - \square = 10$      $13 - \square = 10$      $16 - \square = 10$

4. Umanjenik je 19. Umanjitelj je 9. Kolika je razlika?

RAČUN: \_\_\_\_\_  
ODGOVOR: \_\_\_\_\_

65

Oduzimanje brojeva možeš vježbati i na sljedećem linku.

Sretno! 😊

<https://wordwall.net/hr/resource/1161021>